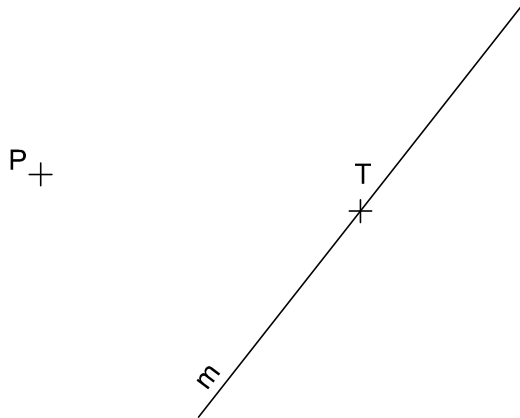
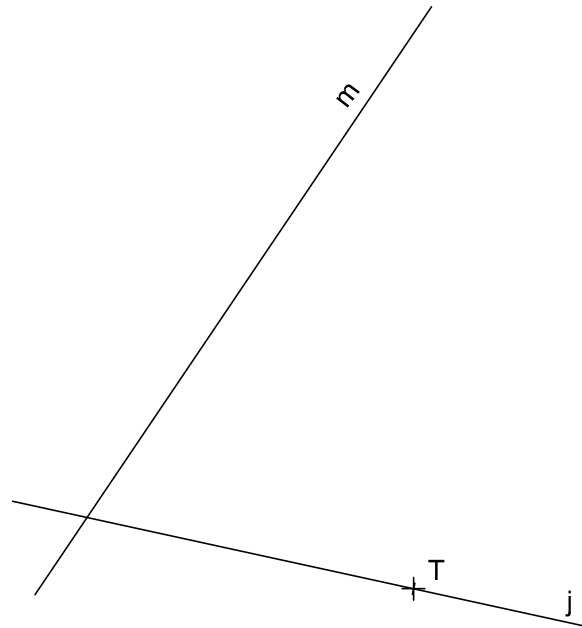


ALUMN@ :

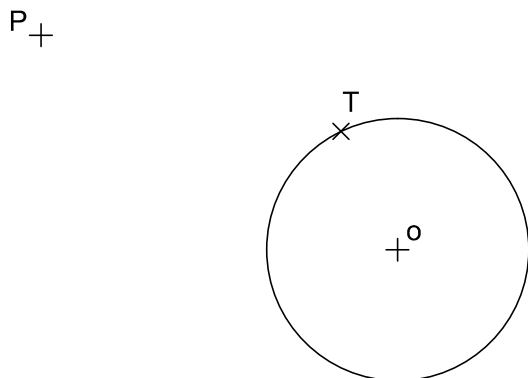
1. Traza la circunferencia tangente a la recta "m" en su punto "T" y que pase por un el punto "P" dado.  
Valor: 1 Punto.



2. Traza la circunferencia tangente a las rectas dadas, conociendo el punto de tangencia "T".  
Valor: 1 Punto.



3. Traza la circunferencia tangente por el punto "T" a otra dada, que pase por el punto "P".  
Valor: 1,5 Puntos.



4. Traza las circunferencias tangentes, al mismo tiempo, a las tres rectas dadas.  
Valor: 1,5 Puntos.

