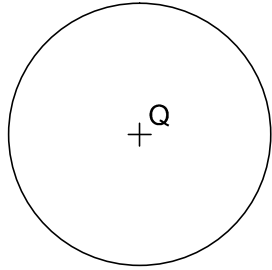



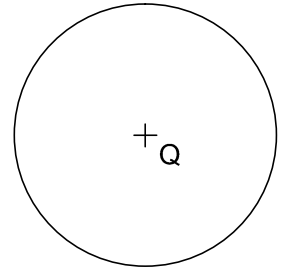

5. Dibuja las circunferencias de radio "A B", tangentes a la circunferencia de centro "Q" y que pasen por el punto "P".

Valor: 2 Puntos.



6. Dibuja las circunferencias de radio "A B", tangentes a la circunferencia de centro "Q" y que pasen por el punto "P".

Valor: 2 Puntos.



7. Traza las circunferencia de radio "A B", tangente a la recta "m" y a la circunferencia dada.

Valor: 2 Puntos.

