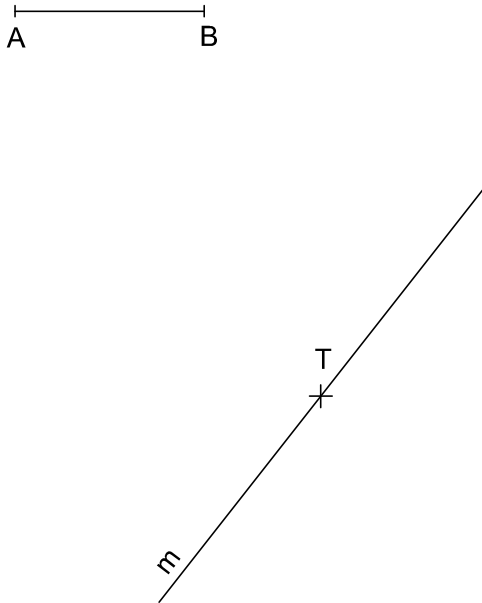



Para que el ejercicio se considere correcto deben estar marcados los puntos de tangencia entre los diferentes elementos geométricos.

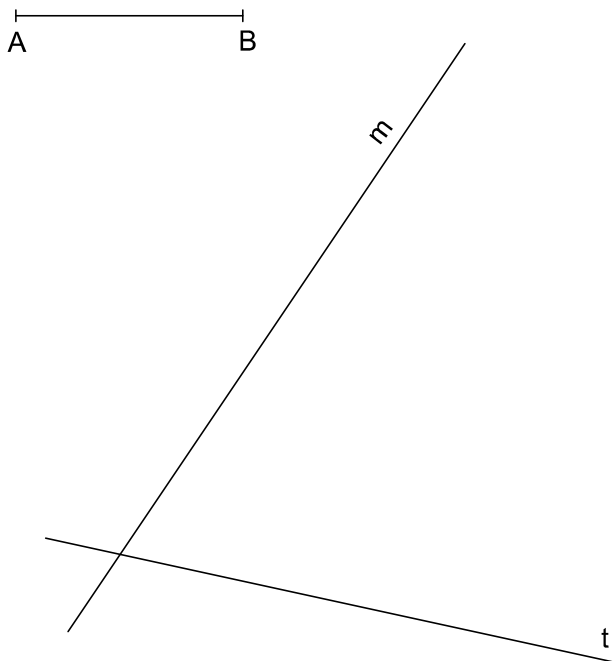
1. Traza las circunferencias de radio "AB",
tangentes en el punto "T" a la recta "m".
Valor: 1 Punto.



2. Traza las circunferencias de radio "A B", tangentes a
la recta "m" y que pasen por el punto exterior "P".
Valor: 1 Punto.



3. Traza un arco de circunferencia de radio "A B",
tangente a las rectas dadas.
Valor: 1 Punto.



4. Traza las circunferencias de radio "A B",
tangentes en el punto "T" a la circunferencia dada.
Valor: 1 Punto.

