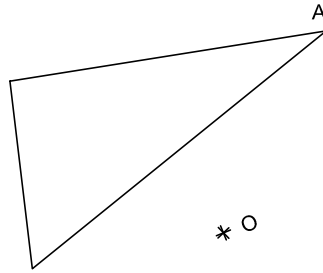
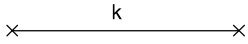

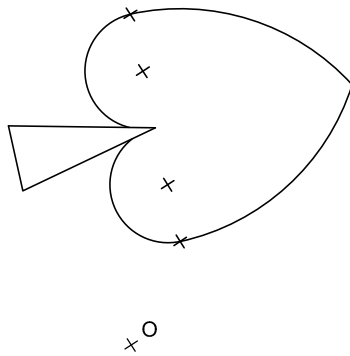


5.- Dibuja el triángulo homotético del dado, siendo "O" el centro de la homotecia y K la razón. Comprueba analíticamente el resultado. (1,5 puntos).



6.- Halla la figura simétrica de la dada respecto al centro "O" y de aquella respecto al eje "e". (1,5 puntos)



7.- Realiza 2 movimientos para que ambas figuras sean transformadas una de otra. (1,5 puntos)

