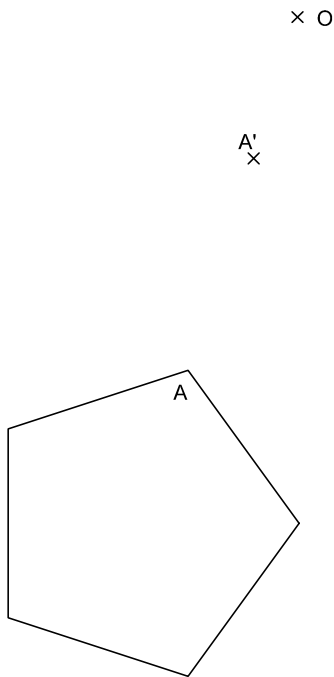
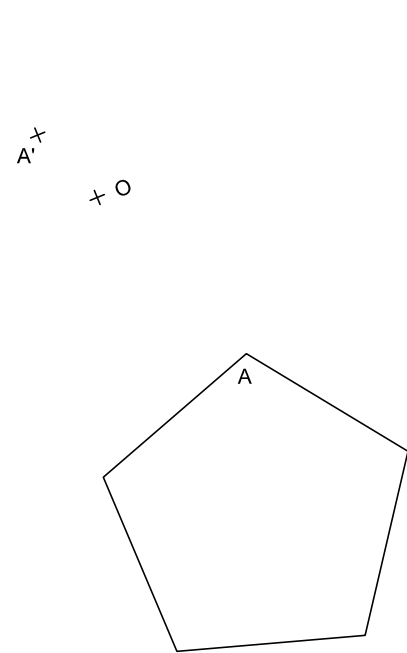


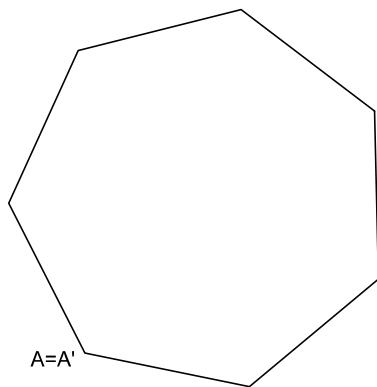
1.- Dibuja la figura homotética del pentágono dado, siendo "O" el centro de homotecia y A-A' una pareja de puntos homotéticos.
¿Cuál es la razón dfe la misma? (1,5 puntos)



2.- Dibuja la figura homotética del pentágono dado, siendo "O" el centro de homotecia y A-A' una pareja de puntos homotéticos.
¿Cuál es la razón dfe la misma? (1,5 puntos)



3.- Halla la figura semejante a la dada y de superficie el triple.
(1,5 puntos)



4.- Halla los centros y razones de las dos homotecias que relacionan ambas circunferencias. (1 punto)

